

Tìm hình khác nhau


**So sánh
các hình**



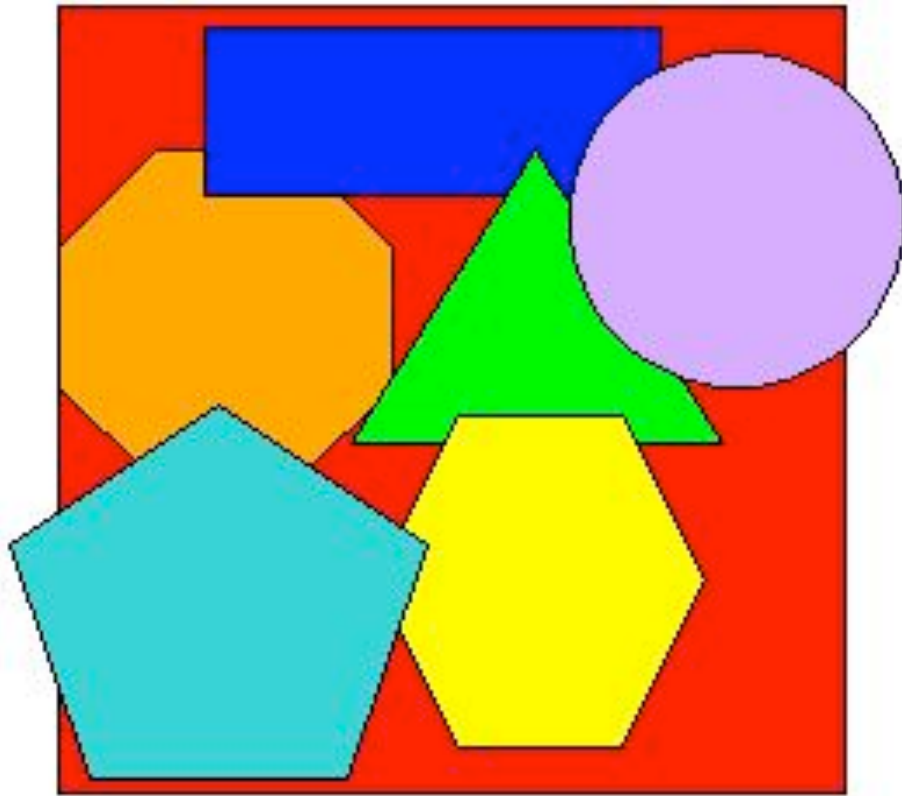
Mục Lục

Hình là gì?.....	5
Hình tròn	7
Hình tam giác.....	9
Hình vuông.....	11
Hình chữ nhật	13
Hình bầu dục.....	15
Hình bán nguyệt.....	17
Hình thoi.....	19
So sánh các hình	21
Mô tả hình	23
Chữ khó	24

Hình là gì?



Có nhiều hình xung quanh chúng ta.
Có hình có cạnh và có góc.
Có hình có đường cong và không có góc.



Có hình có nhiều cạnh.
Có hình chỉ có một cạnh.
Có hình lớn, có hình nhỏ.

Hình tròn



Hình tròn chỉ có một cạnh.
Em vẽ hình tròn được không?




Chúng ta nhìn thấy hình tròn ở nhiều chỗ khác nhau.

Em tìm thấy hình tròn không?

Hình tam giác



Hình tam giác có ba cạnh và ba góc.
Em vẽ hình tam giác được không?



Chúng ta nhìn thấy hình tam giác ở
nhiều chỗ khác nhau.
Em tìm thấy hình tam giác không?

Hình vuông



Hình vuông có bốn cạnh và bốn góc.
Tất cả các cạnh của hình vuông bằng nhau.
Em vẽ hình vuông được không?



Chúng ta nhìn thấy hình vuông ở nhiều
chỗ khác nhau.
Em tìm thấy hình vuông không?

Hình chữ nhật



Hình chữ nhật có bốn cạnh và bốn góc.
Hai cạnh dài và hai cạnh ngắn.
Em vẽ hình chữ nhật được không?



Chúng ta nhìn thấy hình chữ nhật ở nhiều chỗ khác nhau.
Em tìm thấy hình chữ nhật không?

Hình bầu dục



Hình bầu dục nhìn giống như một hình tròn dẹt. Hình bầu dục có đường cong và chỉ có một cạnh.

Em vẽ hình bầu dục được không?



Chúng ta nhìn thấy hình bầu dục ở
nhiều chỗ khác nhau.
Em tìm thấy hình bầu dục không?

Hình bán nguyệt



Hình bán nguyệt là nửa hình tròn.
Hình bán nguyệt có một đường cong và một cạnh thẳng.
Em vẽ hình bán nguyệt được không?



Chúng ta nhìn thấy hình bán nguyệt ở
nhiều chỗ khác nhau.
Em tìm thấy hình bán nguyệt không?

Hình thoi






Hình thoi có bốn cạnh và bốn góc.
Em vẽ hình thoi được không?




Chúng ta nhìn thấy hình thoi ở nhiều
chỗ khác nhau.
Em tìm thấy hình thoi không?

So sánh các hình




Có bao nhiêu hình có đường cong?
Có bao nhiêu hình có góc?



Có bao nhiêu hình có bốn cạnh?
Có bao nhiêu hình có ba cạnh?

Mô tả hình



Những hình này có bao nhiêu cạnh và bao nhiêu góc?
Tên của các hình đó là gì?

Chữ khó

- So sánh: compare
- Góc: corner
- Cạnh: side
- Đường cong: curve
- Bằng nhau: equal
- Nửa: half